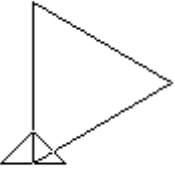
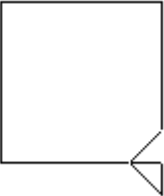
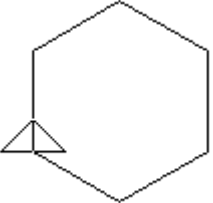
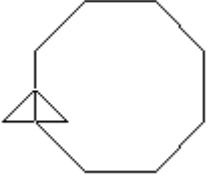
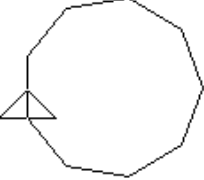
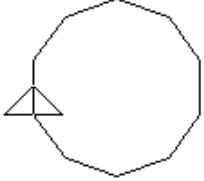


## ใบงานที่ 4 การใช้คำสั่งทำซ้ำ

1. ให้ฝึกการใช้คำสั่งในการวาดภาพกราฟิกรูปเหลี่ยมต่อไปนี้ และบันทึกค่าลงในตารางข้างล่าง

รูปเหลี่ยม	ชื่อรูป	การใช้คำสั่ง Repeat ในการทำงาน
	Triangle	
	Square	
	Hexagon	
	octagon	
	Ninagon	
	Decagon	